

Exercice 3 : Arôme de vanille

2022 Centres étrangers 2 Jour 2

La vanilline est le constituant principal de l'essence de vanille. On se propose dans cet exercice de déterminer la masse de vanilline présente dans un arôme alimentaire de vanille Bourbon. Pour cela, on commence par préparer une solution de référence dont on détermine la concentration en vanilline par titrage suivi par conductimétrie. Cette solution de référence est ensuite utilisée pour réaliser un dosage par étalonnage utilisant la spectrophotométrie.

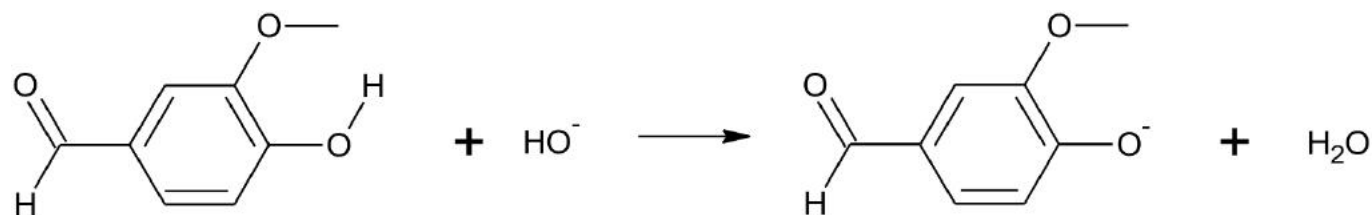
Données :

- masse molaire de la vanilline : $152 \text{ g} \cdot \text{mol}^{-1}$;
- conductivités ioniques molaires :

Ion	H_3O^+	HO^-	Cl^-	Na^+	Vanillinate (V^-)
$\lambda \text{ (mS} \cdot \text{m}^2 \cdot \text{mol}^{-1}\text{)}$	35	20	7,6	5,0	Inconnue

1. Préparation d'une solution de référence

On réalise la dissolution d'une faible quantité de vanilline commerciale, dans une solution aqueuse basique d'hydroxyde de sodium. On obtient une solution, notée S_1 . Dans cette solution S_1 , la vanilline, notée VH , a réagi avec les ions hydroxyde pour former l'ion vanillinate, noté V^- . L'équation de la réaction modélisant cette transformation chimique est la suivante :

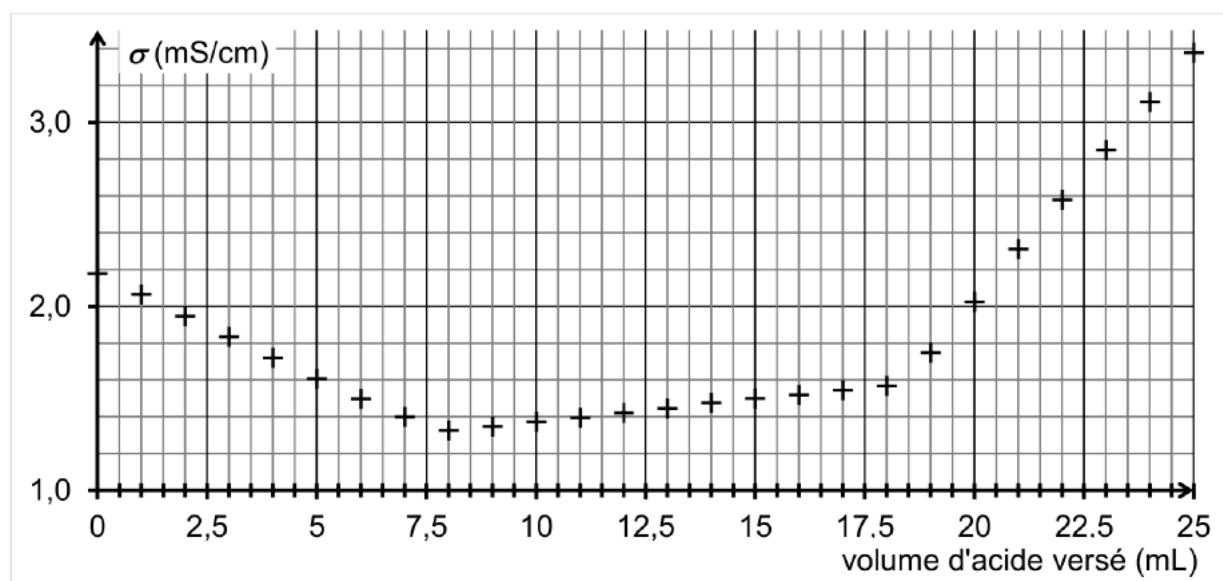


1. Identifier les deux couples acide/base mis en jeu lors de cette réaction.

Titrage de la solution de référence S_1

On réalise le titrage d'un volume $V_1 = 20,0 \text{ mL}$ de solution S_1 , auquel on ajoute environ 150 mL d'eau distillée, par de l'acide chlorhydrique de concentration $C_a = 1,0 \times 10^{-1} \text{ mol} \cdot \text{L}^{-1}$. Le titrage est suivi par conductimétrie.

On obtient la courbe de suivi du titrage suivante :



Cette courbe fait apparaître trois phases distinctes :

- première phase : titrage de l'excès des ions hydroxyde ;

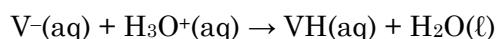
- deuxième phase : titrage de la base conjuguée de la vanilline ;
- troisième phase : ajout d'acide en excès dans le milieu.

Première phase du titrage

2. Écrire l'équation de la réaction support du titrage qui a lieu lors de la première phase.
3. Déterminer graphiquement le volume d'acide nécessaire au titrage des ions hydroxyde.
4. Justifier la pente de la courbe lors de cette première phase.

Deuxième phase du titrage

L'équation de la réaction support du deuxième titrage peut s'écrire :



5. D'après l'allure de la courbe dans cette deuxième phase du titrage, indiquer si la conductivité ionique molaire de l'ion vanillinate (V^-) est inférieure, supérieure ou égale à celle des ions chlorure. Justifier.
6. Déterminer le volume d'acide nécessaire au seul titrage de l'ion vanillinate, en explicitant votre démarche.
7. En déduire la valeur de la concentration C_v en ions vanillinate dans la solution S_1 .

Dosage de la vanilline dans l'arôme alimentaire de vanille Bourbon

Protocole utilisé

- Placer 1,0 mL d'arôme alimentaire de vanille Bourbon dans une ampoule à décanter avec un peu d'eau.
- Extraire la vanilline présente dans la phase aqueuse à l'aide d'éthanoate d'éthyle et conserver la phase organique obtenue dans l'ampoule à décanter.
- Extraire la vanilline présente précédente avec une solution aqueuse d'hydroxyde de sodium.
- Transvaser la phase aqueuse obtenue dans une fiole jaugée de 250,0 mL et compléter au trait de jauge avec la solution d'hydroxyde de sodium. On appelle S_2 cette solution.

On réalise alors les spectres d'absorption UV-visible :

- de la solution S_2 obtenue à l'aide du protocole ci-dessus ;
- d'une solution S_3 obtenue en diluant 1000 fois la solution de référence S_1 étudiée dans la deuxième partie.

La concentration en vanilline dans la solution S_3 est $C_{val} = 5,3 \times 10^{-5} \text{ mol } L^{-1}$.

On obtient les spectres ci-contre.

8. Les solutions S_2 et S_3 sont-elles colorées ? Justifier.
9. Estimer la masse de vanilline présente dans 1 litre d'arôme alimentaire, en supposant la loi de Beer-Lambert vérifiée par les solutions dans les conditions de l'expérience.

